

4/24(金)	〇〇
4/25(土)	〇



おんどく かいすうぶん
音読した回数分
〇を書きましよう。

ふきのとう

くどう なおこ さく

ひらおか ひとみ え



⑬こめからは、じぶんで見つけた

資料②

「春のもの」をかきましょう。絵を入れてもいいね。♡

	⑬	⑪	り	⑥	ら	①	春	
	チ	も	⑨	た	④	か	か	月
	ユ	ん	み	ん	う	た		
	ー	し	つ	ぼ	ぐ	ば	い	日
	リ	ろ	ば	ぼ	い	み	っ	ハ
	ツ	ち	ち	⑦	す	②	ば	
	フ	よ	⑩	な	⑤	よ	い	ハ
		う	て	の	れ	も	ー	
	⑭	⑫	ん	花	ん	ぎ	み	<div style="border: 1px solid black; padding: 5px;"> 春がおわったら、ほかの きせつにチャレンジして みるもいいですね。♡ </div>
	春	す	と	⑧	げ	③	す	
	風	み	う	ひ	そ	さ	ね。♡	
		れ	虫	ば	う	く		

ミニトマトの？をしらべよう

ここには、自分のそだててみたい
やたいのなまえをかいてね!!



- ① ひつようなものはなに??
- | | |
|--------------|-----------------|
| (1) ミニトマトのなえ | (6) スコップ |
| (2) フォンター | (7) しちゆう |
| (3) じょうろ | (8) ひも |
| (4) ひりょう | (9) つかわなくはったふいて |
| (5) はいよう土 | |

自分でなまえをしらべてみよう!!

じぶんの
気にはるこぼれしう入てみたいこぼれ
こぼれにかいてね。

- ② 大きくそだてるためにはどうすればいい??
- (1) たくさん水をあける。
 - (2) たいようのひかりをあてる。
 - (3) わきめをつみとる。
 - (4) まひきをする。

かんそう

- 早くそだててみたくなりました。
- 「わきめ」や「まひき」というのをしじめてしりました。
- ほかのやさいもしらべてみたいです。

ちからだめし・10までのひきざん

なまえ

□ けいさんをしましょう。(5×15)

- ① $9 - 4 =$
- ② $10 - 3 =$
- ③ $7 - 1 =$
- ④ $8 - 2 =$
- ⑤ $9 - 6 =$
- ⑥ $5 - 3 =$
- ⑦ $6 - 2 =$
- ⑧ $10 - 6 =$
- ⑨ $8 - 5 =$
- ⑩ $6 - 3 =$
- ⑪ $10 - 5 =$
- ⑫ $8 - 7 =$

- ⑬ $7 - 2 =$
- ⑭ $9 - 8 =$
- ⑮ $4 - 2 =$
- ⑯ $10 - 8 =$

□ いちごが 10こ あります。7こ たべました。のこりは なんこですか。(10)

しき



こたえ

□ こどもが こうえんで 8にん あそんでいます。そのうち おとこのこは 4にんです。おんなのこは なんにん いますか。(10)

しき



こたえ

ちからだめし・10までのたしざん

なまえ

①

□ けいさんをしましょう。(5×16)

- ① $4 + 5 =$
- ② $8 + 2 =$
- ③ $3 + 4 =$
- ④ $2 + 7 =$
- ⑤ $5 + 5 =$
- ⑥ $4 + 3 =$
- ⑦ $2 + 4 =$
- ⑧ $1 + 7 =$
- ⑨ $6 + 4 =$
- ⑩ $2 + 5 =$
- ⑪ $3 + 5 =$
- ⑫ $6 + 3 =$

- ⑬ $5 + 3 =$
- ⑭ $7 + 2 =$
- ⑮ $2 + 6 =$
- ⑯ $9 + 1 =$

□ こどもが 7にん あそんでいます。そこへ 3にん きました。こどもは、なんにんに なりましたか。(10)

しき



こたえ

□ しろい いぬが 6びき、くろい いぬが 3びき います。いぬは、あわせて なんびき いますか。(10)

しき



こたえ

ちからだめし・ひきざん

なまえ

□ けいさんをしましょう。(5×16)

- ① $17 - 8 =$
- ② $16 - 9 =$
- ③ $13 - 7 =$
- ④ $15 - 6 =$
- ⑤ $11 - 6 =$
- ⑥ $12 - 4 =$
- ⑦ $13 - 9 =$
- ⑧ $18 - 9 =$
- ⑨ $15 - 8 =$
- ⑩ $13 - 5 =$
- ⑪ $11 - 4 =$
- ⑫ $12 - 7 =$

- ⑬ $14 - 6 =$
- ⑭ $13 - 8 =$
- ⑮ $11 - 9 =$
- ⑯ $16 - 7 =$

□ チョコレートを 12こ もらいました。たけるくんと じんくんで 8こ たべました。のこりは なんこですか。(10)

しき



こたえ

□ あかい おりがみが 15まい、あおい おりがみが 6まい あります。どちらが なんまい おおいですか。(10)

しき



こたえ

ちからだめし・たしざん

なまえ

□ けいさんをしましょう。(5×16)

- ① $8 + 8 =$
- ② $4 + 9 =$
- ③ $9 + 8 =$
- ④ $2 + 9 =$
- ⑤ $6 + 8 =$
- ⑥ $8 + 7 =$
- ⑦ $5 + 6 =$
- ⑧ $3 + 9 =$
- ⑨ $9 + 7 =$
- ⑩ $5 + 9 =$
- ⑪ $4 + 7 =$
- ⑫ $9 + 9 =$

- ⑬ $4 + 8 =$
- ⑭ $9 + 6 =$
- ⑮ $6 + 7 =$
- ⑯ $7 + 5 =$

□ くりひろいに きました。りほさんは 8こ、めぐみさんは 6こ ひろいました。ふたり あわせて なんこ ひろったのでしょうか。(10)

しき



こたえ

□ あさがおが 7こ さいっていました。けさ、また 5こ さきました。ぜんぶで いくつ さきましたか。(10)

しき







こたえ



とけい①(1)美

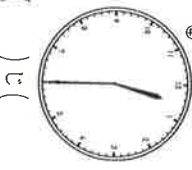
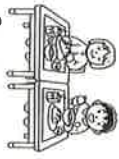
● とけいをよみましょう。


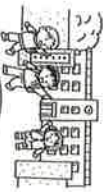
②



①   ()じ(はん)



②   ()じ()

③   ()じ()

④   ()じ()


⑤   ()じ()


⑥   ()じ()


⑦   ()じ()


とけい①(2)美


● とけいのはりをよみましょう。


①  ()じ()


②  ()じ()

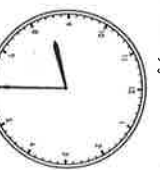
③  ()じ()


④  ()じ()


⑤  ()じ()

⑥  ()じ()

⑦  ()じ(はん) ()じ()


⑧  ()じ() ()じ()


⑨  ()じ() ()じ()


⑩  ()じ() ()じ()


とけい①(3)美


● とけいのはりをよみましょう。


①  ()じ(はん) ()じ()

②  ()じ() ()じ()

③  ()じ() ()じ()

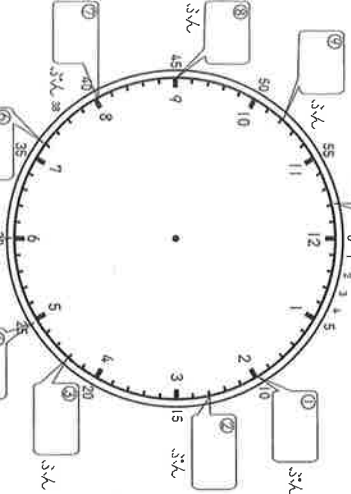
④  ()じ() ()じ()

⑤  ()じ() ()じ()

⑥  ()じ() ()じ()

とけい②(1)美

● ながい(はり)のさき(えんぴつ)でとけい(は)を、に に なんじ(ぶん)か かきましょ。



① 3分 ()じ()ぶん

② 10分 ()じ()ぶん

③ 15分 ()じ()ぶん

④ 20分 ()じ()ぶん

⑤ 25分 ()じ()ぶん

⑥ 30分 ()じ()ぶん

⑦ 35分 ()じ()ぶん

⑧ 40分 ()じ()ぶん


⑨ 45分 ()じ()ぶん


⑩ 50分 ()じ()ぶん


⑪ 55分 ()じ()ぶん


とけい②(2)美


● なんじ なんぶん(ぶん)でましょ。


①  ()じ()ぶん ()ぶん

②  ()じ()ぶん ()ぶん

③  ()じ()ぶん ()ぶん


④  ()じ()ぶん ()ぶん


⑤  ()じ()ぶん ()ぶん


⑥  ()じ()ぶん ()ぶん


とけい②(3)美


● なんじ なんぶん(ぶん)でましょ。


①  ()じ()ぶん ()ぶん

②  ()じ()ぶん ()ぶん

③  ()じ()ぶん ()ぶん


④  ()じ()ぶん ()ぶん


⑤  ()じ()ぶん ()ぶん


⑥  ()じ()ぶん ()ぶん


とけい②(4)美


● なんじ なんぶん(ぶん)でましょ。


①  ()じ()ぶん ()ぶん

②  ()じ()ぶん ()ぶん

③  ()じ()ぶん ()ぶん

④  ()じ()ぶん ()ぶん

⑤  ()じ()ぶん ()ぶん

⑥  ()じ()ぶん ()ぶん

おたけのたけのこ
たしざん (1) 筆

すをみて たしざんをしましょう。


① $10+20=$ ③ $30+40=$



⑤ $50+2=$ ⑦ $60+8=$

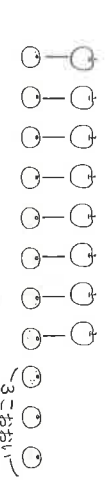


⑨ $72+7=$ ⑪ $23+6=$




よりおおい
よりすくない (1) 筆

① りんごを 8こ かいしました。みかんは、りんごより 3こ おおく かいしました。みかんを なんこ かいしましたか。



② おはじきとりを しました。みぎさんは 17こ とりました。けんくんは みぎさんより 8こ すくなく とりました。けんくんは なんこ とりましたか。



おたけのたけのこ
たしざん (2) 筆

けいざんをしましょう。

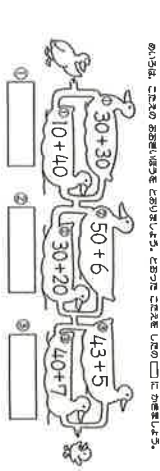
① $20+40=$ ③ $60+20=$

⑤ $80+10=$ ⑦ $40+40=$

⑨ $50+20=$ ⑪ $70+20=$

⑬ $30+8=$ ⑮ $60+4=$

⑰ $24+2=$ ⑲ $71+8=$



よりおおい
よりすくない (2) 筆

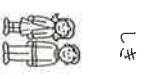
① すいそくかんに テシカが 12とう います。アザラシは テシカより 5とう すくないです。アザラシは なんとう いますか。



② くろみさんは なわとびの うしろとびを 7かい つけて とりました。りごさんは くろみさんより 4かい おおく とりました。りごさんは なんかい とりましたか。



③ おにいさんは 15さいです。わたしは おにいさんより 8さい とりました。わたしは なんさいですか。



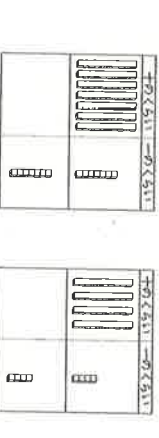
おたけのたけのこ
ひきざん (1) 筆

すをみて ひきざんをしましょう。

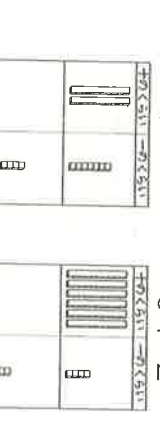
① $50-20=$ ③ $30-10=$



⑤ $77-7=$ ⑦ $44-4=$



⑨ $27-4=$ ⑪ $64-2=$



おたけのたけのこ
ひきざん (2) 筆

けいざんをしましょう。

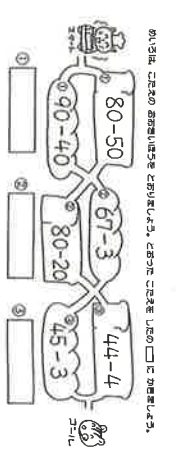
① $50-40=$ ③ $90-30=$

⑤ $60-10=$ ⑦ $80-40=$

⑨ $33-3=$ ⑪ $22-2=$

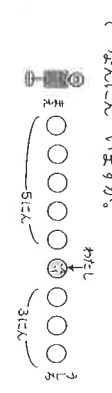
⑬ $88-8=$ ⑮ $48-5=$

⑰ $99-6=$ ⑲ $55-4=$



じゅんばん (1) 筆

① こどもが 10にん ならんでいます。ゆかさんは まえから 7ばんめです。うしろに 5にん います。ぜんぶで なんにん いますか。

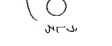


② こどもが 10にん ならんでいます。ゆかさんは まえから 4ばんめです。ゆかさんの うしろに なんにん いますか。

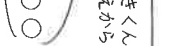


じゅんばん (2) 筆

① バスに 11にん ならんでいます。わたしの まえに 5にん、わたしの うしろに 3にん ならんでいます。ぜんぶで なんにん いますか。



② 8にん かけて こを しました。ゆうきくんの うしろに 6にん いました。ゆうきくんの なんばんめ だったでしょうか。



ちからだめし・たしざん

けいざんをしましょう。

- ① 4+5=9
- ② 8+2=10
- ③ 3+4=7
- ④ 2+7=9
- ⑤ 5+5=10
- ⑥ 4+3=7
- ⑦ 2+4=6
- ⑧ 1+7=8
- ⑨ 6+4=10
- ⑩ 2+5=7
- ⑪ 3+5=8
- ⑫ 6+3=9


- ⑬ 5+3=8
- ⑭ 7+2=9
- ⑮ 2+6=8
- ⑯ 9+1=10

⑫ こどもが 7にん あそんでいます。そこへ 3にん きました。こどもは、なんにんに なりましたか。

しき 7+3=10

⑬ しろい いぬが 6びき、くろい いぬが 3びき います。いぬは、あわせて なんびき いますか。

しき 6+3=9

⑭  9びき

ちからだめし・ひきざん


けいざんをしましょう。

- ① 17-8=9
- ② 16-9=7
- ③ 13-7=6
- ④ 15-6=9
- ⑤ 11-6=5
- ⑥ 12-4=8
- ⑦ 13-9=4
- ⑧ 18-9=9
- ⑨ 15-8=7
- ⑩ 13-5=8
- ⑪ 11-4=7
- ⑫ 12-7=5

- ⑬ 14-6=8
- ⑭ 13-8=5
- ⑮ 11-9=2
- ⑯ 16-7=9


⑮ チョコレートを 12こ もらいました。たけるくと じんくんで 8こ たべました。のこりは なんこですか。

しき 12-8=4

⑯  4こ

⑰ あかい おりがみが 15まい、あおい おりがみが 6まい あります。どちらが なんまい おおいですか。

しき 15-6=9


⑰  あかい おりがみが 9まい おおい。

ちからだめし・たしざん


けいざんをしましょう。

- ① 8+8=16
- ② 4+9=13
- ③ 9+8=17
- ④ 2+9=11
- ⑤ 6+8=14
- ⑥ 8+7=15
- ⑦ 5+6=11
- ⑧ 3+9=12
- ⑨ 9+7=16
- ⑩ 5+9=14
- ⑪ 4+7=11
- ⑫ 9+9=18

- ⑬ 4+8=12
- ⑭ 9+6=15
- ⑮ 6+7=13
- ⑯ 7+5=12

⑮  くりひろいりに いきました。りほさんは 8こ、めぐみさんは 6こ ひろいました。ふたり あわせて なんこ ひろったのでしょうか。

8+6=14

⑰  14こ

⑱ あさがおが 7こ さいていました。けさ、また 5こ さきました。ぜんぶで いくつ さきましたか。

しき 7+5=12

⑲  12こ

ちからだめし・ひきざん


けいざんをしましょう。

- ① 17-8=9
- ② 16-9=7
- ③ 13-7=6
- ④ 15-6=9
- ⑤ 11-6=5
- ⑥ 12-4=8
- ⑦ 13-9=4
- ⑧ 18-9=9
- ⑨ 15-8=7
- ⑩ 13-5=8
- ⑪ 11-4=7
- ⑫ 12-7=5

- ⑬ 14-6=8
- ⑭ 13-8=5
- ⑮ 11-9=2
- ⑯ 16-7=9


⑮ チョコレートを 12こ もらいました。たけるくと じんくんで 8こ たべました。のこりは なんこですか。

しき 12-8=4

⑯  4こ

⑰ あかい おりがみが 15まい、あおい おりがみが 6まい あります。どちらが なんまい おおいですか。




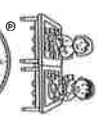
しき 15-6=9

⑰  あかい おりがみが 9まい おおい。

P51

とけいの①(1) とき



● とけいの 時刻を 読み取ろう。

			
(6)じ(はん)	(9)じ(はん)	(11)じ	(12)じ(はん)

P52



とけいの①(2) とき

● とけいの 時刻を 読み取ろう。

	
(3)じ	(12)じ

とけいの①(3) とき

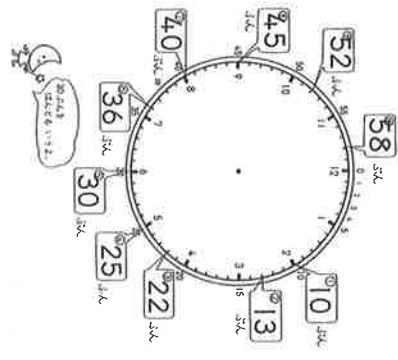
● とけいの 時刻を 読み取ろう。

	
(11)じ(はん)	(8)じ(はん)

P81



とけいの①(1) とき

● 時刻の 読み ときを (はん)で (はん)で (は)で (は)に 読み取ろう。 □ に かんじか かき取ろう。



とけいの①(2) とき



● かんじ かんじで 読み取ろう。

	
(4)じ	(3)じ

P82


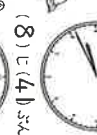
とけいの②(3) とき

● かんじ かんじで 読み取ろう。

	
(7)じ	(12)じ

とけいの②(4) とき

● かんじ かんじで 読み取ろう。

	
(4)じ	(8)じ

