



きつつきの商売

5/1(金)	〇〇
5/2(土)	〇

↑音読した回数分
〇を書きましょう。

きつつきが、お店を開きました。

それはもう、きつつきにぴったりのお店です。

きつつきは、森中の木の中から、えりすぐりの木

を見つけてきて、かんばんをこしらえました。

かんばんにきざんだお店の名前は、こうです。

おとや

それだけでは、なんだか分かりにくいので、きつ

林原 玉枝 はやしばら たまえ 作
村上 康成 むらかみ やすなり 絵

- 開く ひらく
- 動物 ドウブツ
- 商売 ショウバイ
- 物語 ものがたり

三年生 国語

「きつつきぎの商売」

教科書十五〜二十五ページ

めあて

1のばめんを讀んで、お話をせいりしよう

(一)とつじょうじんぶつは だれですか。(二人)

(二)お店のばしよは どのじですか。

(三)野うさぎが ちゅうもんした音は なんですか。

(四)ちゅうもんした音のねだんは いくらですか。

(五)聞こえた音は どんな音でしたか。

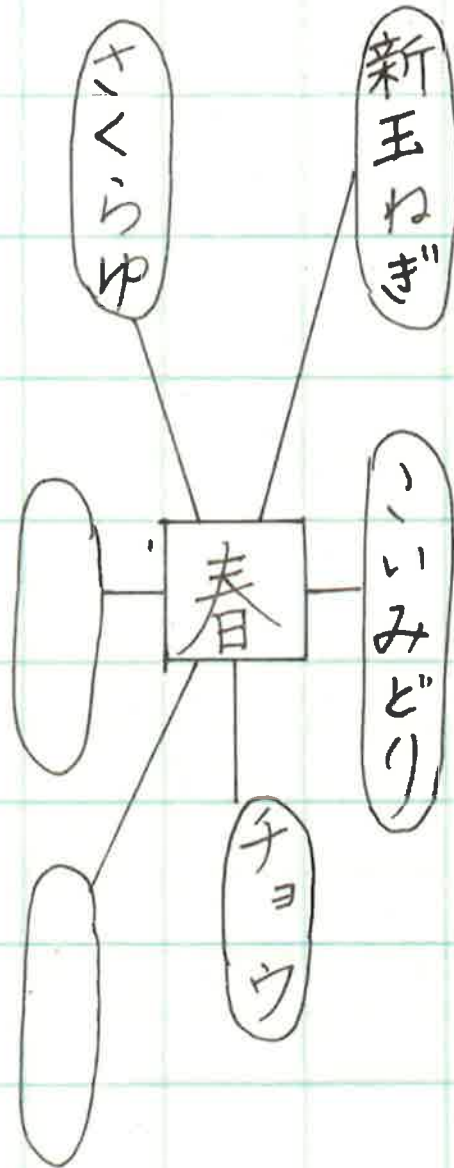
みんなへ
めんなすい。
この問題はいろいろな
考え方があるので
学校に来た時には
伝え合いましう。

		5		1	金		
(五)	(四)	(三)	(三)	(三)	を	/	き
				き	せ	の	つ
				つ	い	ば	つ
				つ	り	め	き
				き	し	ん	の
					よ	を	商
				野	う	読	売
				う	。	ん	
				さ		で	
				ぎ			
						お	
						話	

もんだいの番ごうを書きます。

めめでは、
□でかみます。

5 7 木



め	春	春
よ	を	の
う	か	く
。	ん	ら
	じ	し
	る	
	こ	
	と	
	ば	
	を	
	あ	
	つ	

5 8 金

い	で	さ	を	...	さ	ま	か
が	し	く	の	土	く	し	ん
し	た	ら	み	曜	ら	よ	じ
て	。	の	ま	日	ゆ	う	た
、	ほ	花	し	に		。	も
春	ん	が	た	、			の
だ	の	さ	。	家			に
な	り	い	お	で			つ
あ	い	た	ゆ	さ			い
と	い	み	の	く			て
思	い	た	中	ら			書
い	お	い	に	ゆ			き

さいしはマスあけます。

あいたところ
絵を書いてもいいよ！

学習した
だ名を書け

5/4 (月) 時間と時： < (1)

①

②

③

④

5/5 (火) 時間と時： < (2)

①

②

③

④

5/6 (水) 時間と時： < (3)

①

② ①

②

③ しき

答え

5/8 (金) たし算(5)

$$\begin{array}{r} \textcircled{1} \quad 5 \quad 6 \\ + \quad 3 \quad 7 \\ \hline \end{array}$$

$$\begin{array}{r} \textcircled{2} \quad 1 \quad 2 \\ + \quad 4 \quad 9 \\ \hline \end{array}$$

$$\begin{array}{r} \textcircled{3} \quad 3 \quad 8 \\ + \quad 2 \quad 2 \\ \hline \end{array}$$

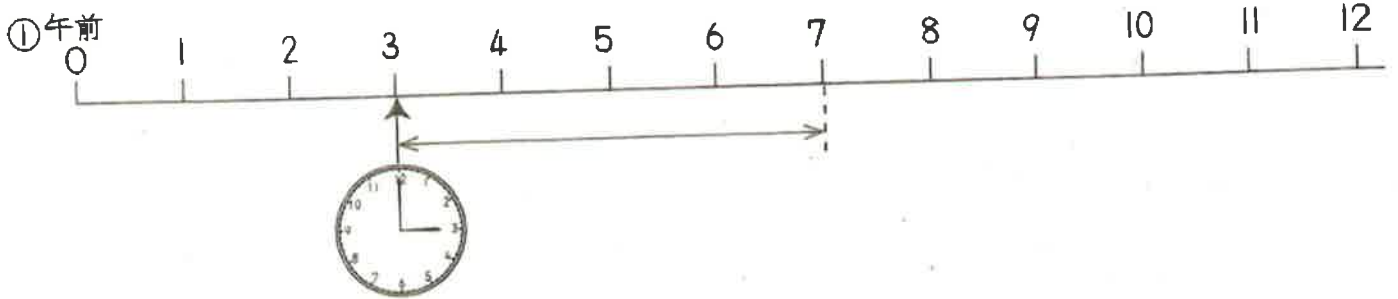
$$\begin{array}{r} \textcircled{4} \quad 6 \quad 9 \\ + \quad 1 \quad 5 \\ \hline \end{array}$$

$$\begin{array}{r} \textcircled{5} \quad 4 \quad 7 \\ + \quad 3 \quad 3 \\ \hline \end{array}$$

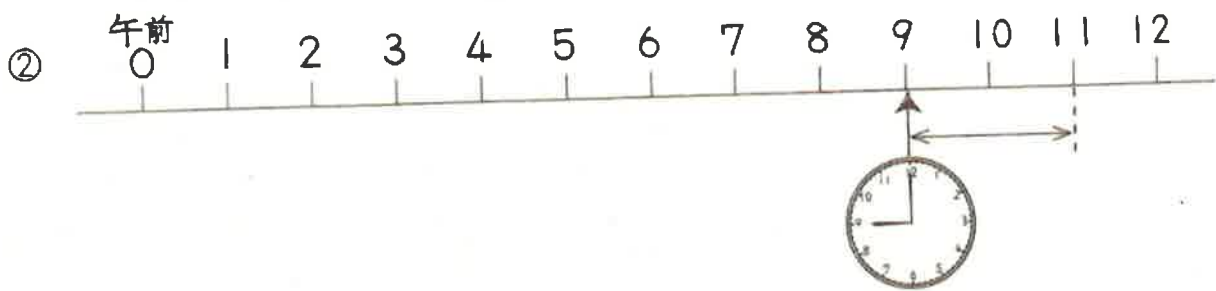
たし算の
問題は一行ある

時間と時こく(1) 名前

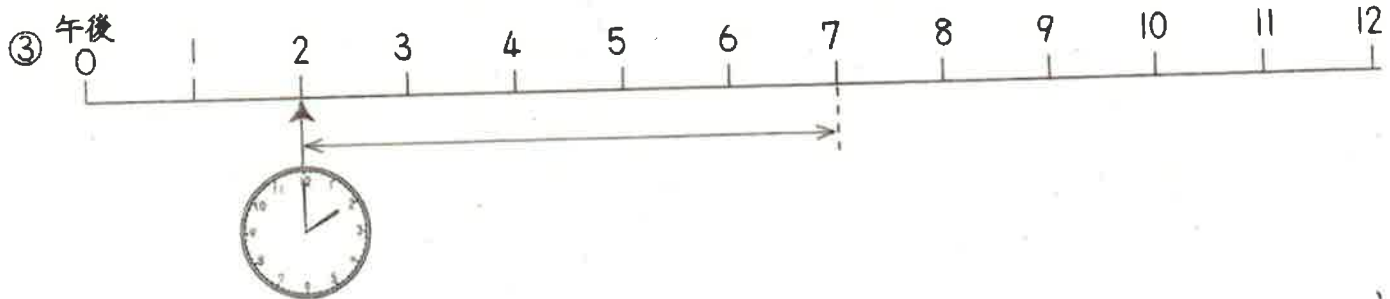
□ つぎの時こくを、図を見て求めましょう。



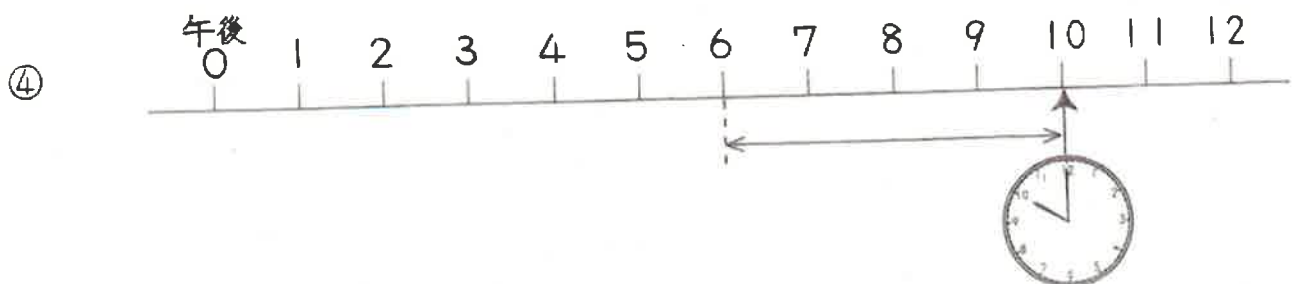
午前3時から、4時間後の時こく。()



午前9時から、2時間後の時こく。()



午後2時から、5時間後の時こく。()

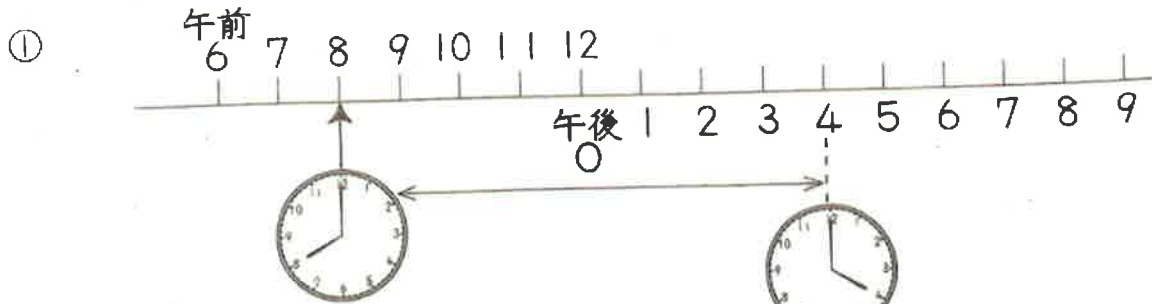


午後10時から、4時間前の時こく。()

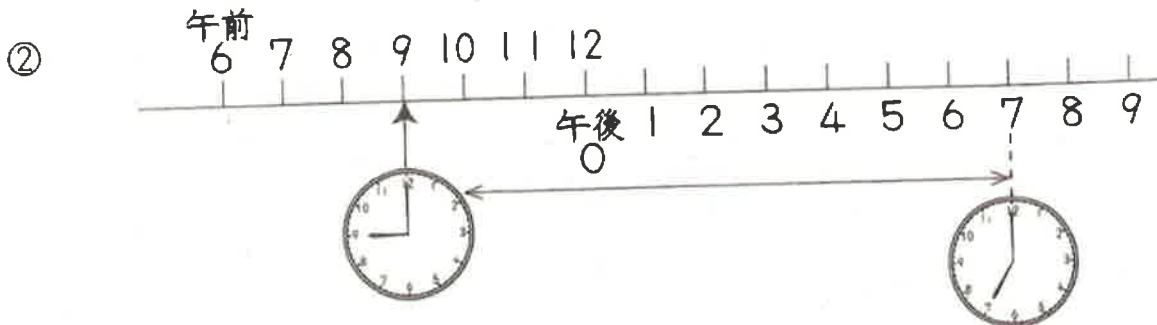
時間と時こく(2) 名

前

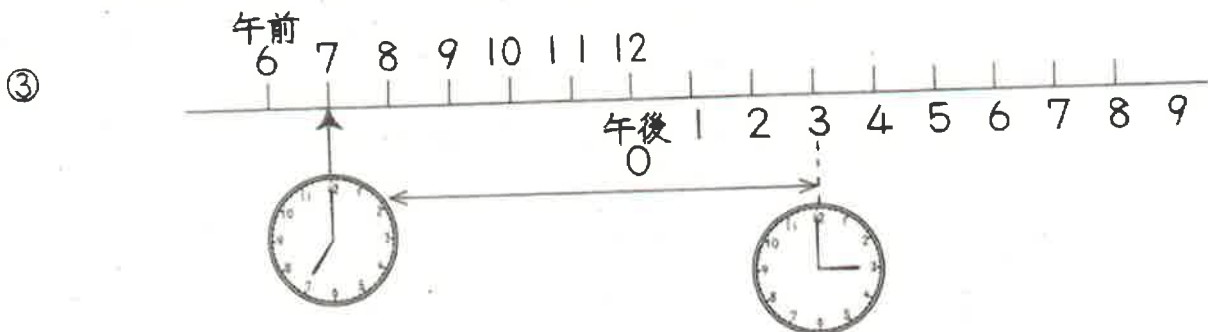
□ つぎの 時間を, 図を 見て もとめましょう。



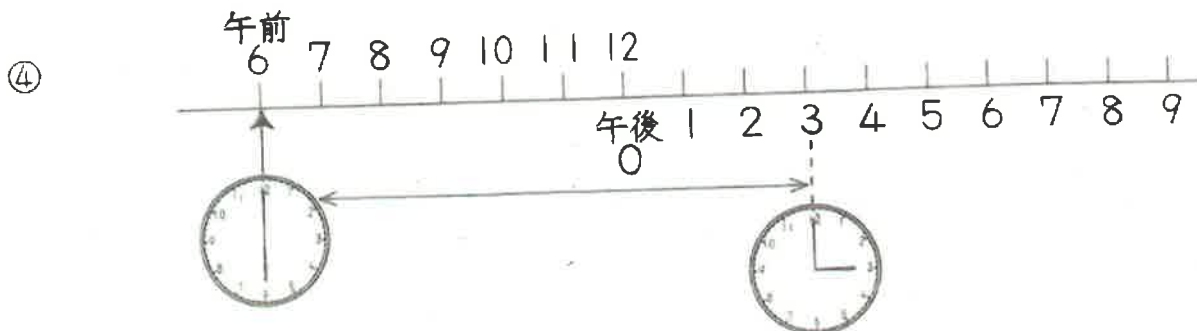
午前8時から, 午後4時までの 時間。()



午前9時から, 午後7時までの 時間。()



午前7時から, 午後3時までの 時間。()



午前6時から, 午後3時までの 時間。()

時間と時こく(3) 名前

□ 時間の長いじゆんに、ならべましょう。

3時間 100分 1日 18時間

()

□ 右の時計の時こくは 10時25分です。

① 20分あとの時こくは、何時何分でしょうか。

()



② 11時までは、あと何分間あるでしょうか。

()

□ しょうたさんは、お父さんと とう キャッチボールを しました。はじめたのは 午後4時10分で、おわったのは、午後4時40分でした。キャッチボールを していたのは、何分間でしょうか。

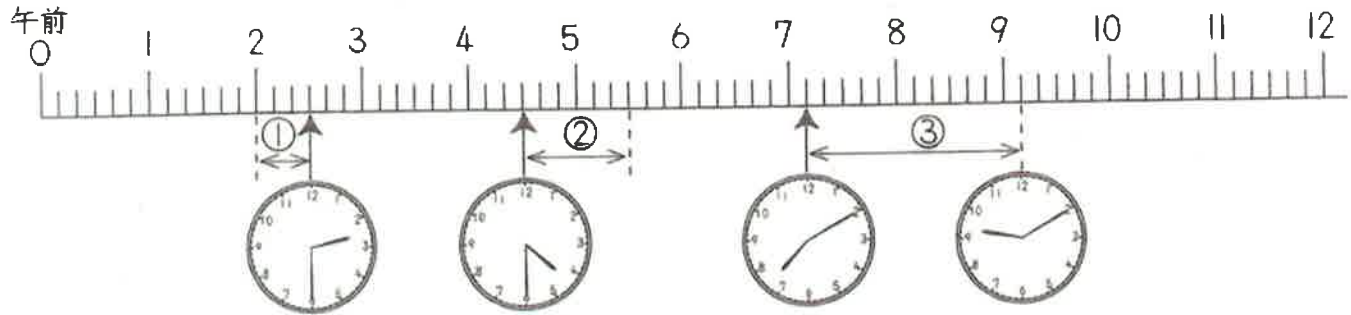
しき



答え

時間と時こく(4) 名前

□ つぎの時こくや時間を、図を見て求めましょう。



① 午前2時30分から、30分前の時こく。

()

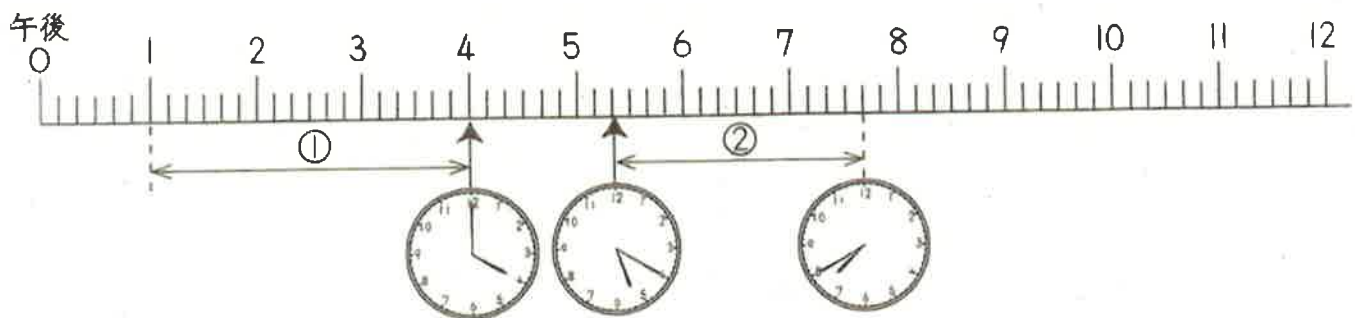
② 午前4時30分から、1時間後の時こく。

()

③ 午前7時10分から、午前9時10分までの時間。

()

□ つぎの時こくや時間を、図を見て求めましょう。



① 午後4時から、3時間前の時こく。

()

② 午後5時20分から、午後7時40分までの時間。

()

たし算 (5)

名前

くり上がりあり

めいろは、答えの大きい方をとります。とおった答えを下の に書きましょう。

①

$$\begin{array}{r} 56 \\ + 37 \\ \hline \end{array}$$

②

$$\begin{array}{r} 12 \\ + 49 \\ \hline \end{array}$$

③

$$\begin{array}{r} 38 \\ + 22 \\ \hline \end{array}$$

④

$$\begin{array}{r} 69 \\ + 15 \\ \hline \end{array}$$

⑤

$$\begin{array}{r} 47 \\ + 33 \\ \hline \end{array}$$

⑥

$$\begin{array}{r} 9 \\ + 24 \\ \hline \end{array}$$

⑦

$$\begin{array}{r} 73 \\ + 18 \\ \hline \end{array}$$

⑧

$$\begin{array}{r} 17 \\ + 57 \\ \hline \end{array}$$

⑨

$$\begin{array}{r} 26 \\ + 35 \\ \hline \end{array}$$

⑩

$$\begin{array}{r} 78 \\ + 16 \\ \hline \end{array}$$

⑪

$$\begin{array}{r} 69 \\ + 7 \\ \hline \end{array}$$

⑫

$$\begin{array}{r} 39 \\ + 39 \\ \hline \end{array}$$

① $63 + 27$

② $3 + 78$

③ $32 + 48$

① $54 + 37$

② $64 + 18$

③ $69 + 9$

①

②

③

たし算 (6)

名
前

くり上がりあり

めいろは、答えの大きい方をとりましょう。とおった答えを下の に書きましょう。

① $54 + 37$

② $28 + 47$

③ $71 + 19$

④ $58 + 23$

⑤ $4 + 58$

⑥ $35 + 36$

⑦ $64 + 18$

⑧ $48 + 49$

⑨ $15 + 36$

⑩ $26 + 69$

⑪ $56 + 26$

⑫ $65 + 9$

スタート

① $52 + 29$

② $39 + 19$

③ $24 + 36$

① $35 + 45$

② $42 + 19$

③ $55 + 8$

ゴール

①

②

③

ひき算 (7)

名
前

くり下がりあり

めいろは、答えの大きい方とおりましょう。とおった答えを下の に書きましょう。

①
$$\begin{array}{r} 62 \\ - 33 \\ \hline \end{array}$$

②
$$\begin{array}{r} 84 \\ - 58 \\ \hline \end{array}$$

③
$$\begin{array}{r} 78 \\ - 49 \\ \hline \end{array}$$

④
$$\begin{array}{r} 60 \\ - 27 \\ \hline \end{array}$$

⑤
$$\begin{array}{r} 96 \\ - 67 \\ \hline \end{array}$$

⑥
$$\begin{array}{r} 74 \\ - 36 \\ \hline \end{array}$$

⑦
$$\begin{array}{r} 80 \\ - 9 \\ \hline \end{array}$$


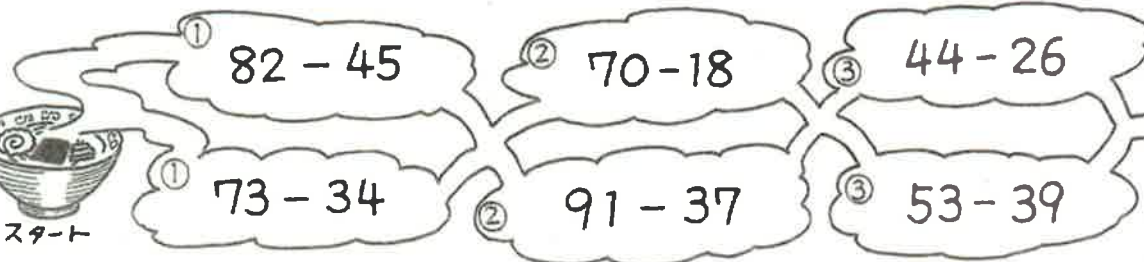

⑧
$$\begin{array}{r} 51 \\ - 18 \\ \hline \end{array}$$

⑨
$$\begin{array}{r} 44 \\ - 35 \\ \hline \end{array}$$

⑩
$$\begin{array}{r} 23 \\ - 8 \\ \hline \end{array}$$

⑪
$$\begin{array}{r} 92 \\ - 48 \\ \hline \end{array}$$

⑫
$$\begin{array}{r} 84 \\ - 27 \\ \hline \end{array}$$

スタート    ゴール

① $82 - 45$ ② $70 - 18$ ③ $44 - 26$

① $73 - 34$ ② $91 - 37$ ③ $53 - 39$

①

②

③

ひき算 (8)

名
前

くり下がりあり

めいろは、答えの大きい方をおりましょう。とおった答えを下の に書きましょう。

① $84 - 75$

② $72 - 59$

③ $51 - 7$

④ $63 - 38$

⑤ $30 - 6$

⑥ $67 - 19$

⑦ $70 - 27$

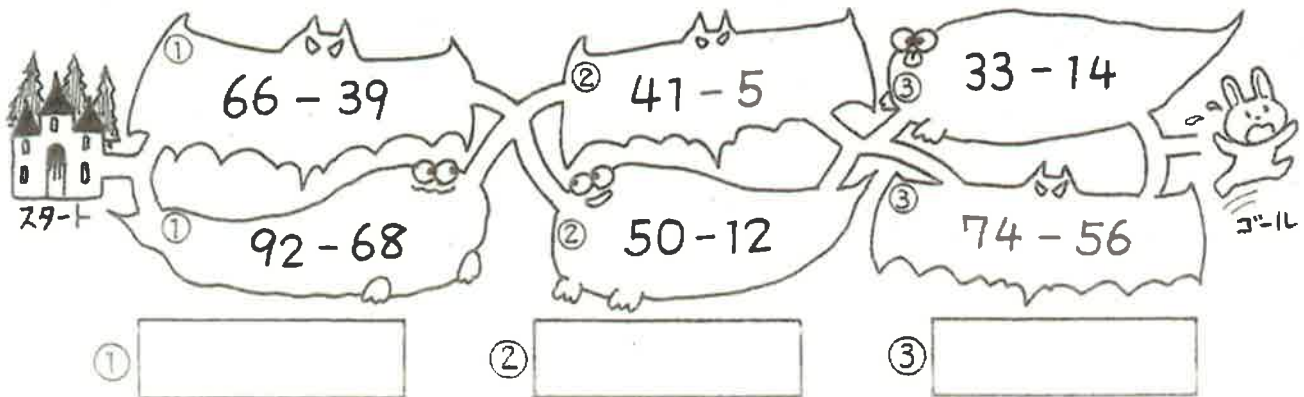
⑧ $55 - 39$

⑨ $93 - 54$

⑩ $60 - 42$


⑪ $83 - 57$

⑫ $91 - 63$



時間と時こく(1) 名前

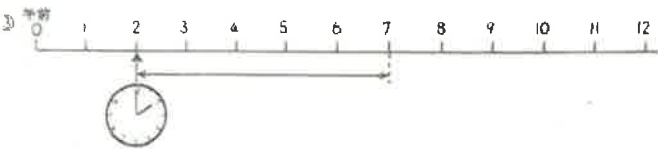
□ つぎの時こくを、図を見て もとめましょう。



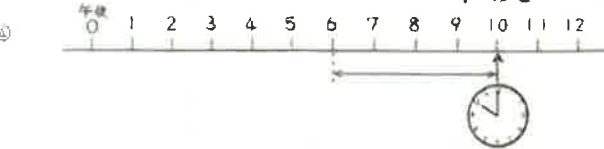
午前3時から、4時間後の時こく。(午前7時)



午前9時から、2時間後の時こく。(午前11時)



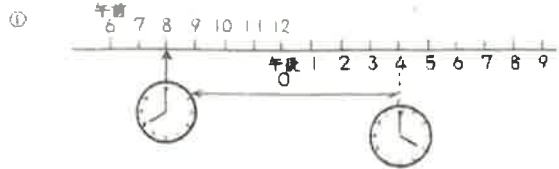
午後2時から、5時間後の時こく。(午後7時)



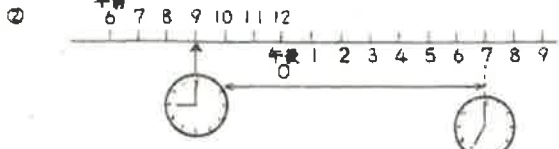
午後10時から、4時間前の時こく。(午後6時)

時間と時こく(2) 名前

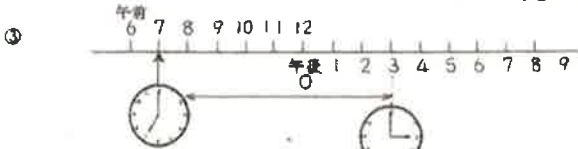
□ つぎの時間を、図を見て もとめましょう。



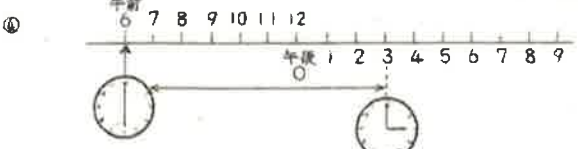
午前8時から、午後4時までの時間。(8時間)



午前9時から、午後7時までの時間。(10時間)



午前7時から、午後3時までの時間。(8時間)



午前6時から、午後3時までの時間。(9時間)

たし算(5) 名前

くり上がりあり はいちば、繰り上げの方向と読みましょう。とまった数も下の□に書きましょう。

① $\begin{array}{r} 56 \\ +37 \\ \hline 93 \end{array}$ ② $\begin{array}{r} 12 \\ +49 \\ \hline 61 \end{array}$ ③ $\begin{array}{r} 38 \\ +22 \\ \hline 60 \end{array}$ ④ $\begin{array}{r} 69 \\ +15 \\ \hline 84 \end{array}$

⑤ $\begin{array}{r} 47 \\ +33 \\ \hline 80 \end{array}$ ⑥ $\begin{array}{r} 9 \\ +24 \\ \hline 33 \end{array}$ ⑦ $\begin{array}{r} 73 \\ +18 \\ \hline 91 \end{array}$ ⑧ $\begin{array}{r} 17 \\ +57 \\ \hline 74 \end{array}$

⑨ $\begin{array}{r} 26 \\ +35 \\ \hline 61 \end{array}$ ⑩ $\begin{array}{r} 78 \\ +16 \\ \hline 94 \end{array}$ ⑪ $\begin{array}{r} 69 \\ +7 \\ \hline 76 \end{array}$ ⑫ $\begin{array}{r} 39 \\ +39 \\ \hline 78 \end{array}$

$63 + 27 = 91$ $3 + 78 = 82$ $32 + 48 = 80$
 $54 + 37 = 91$ $64 + 18 = 82$ $69 + 9 = 80$

たし算(6) 名前

くり上がりあり はいちば、繰り上げの方向と読みましょう。とまった数も下の□に書きましょう。

- ① $54 + 37$ ② $28 + 47$ ③ $71 + 19$ ④ $58 + 23$

91 75 90 81

- ⑤ $4 + 58$ ⑥ $35 + 36$ ⑦ $64 + 18$ ⑧ $48 + 49$

62 71 82 97

- ⑨ $15 + 36$ ⑩ $26 + 69$ ⑪ $56 + 26$ ⑫ $65 + 9$

51 95 82 74

$52 + 29 = 81$ $39 + 19 = 61$ $24 + 36 = 63$
 $35 + 45 = 81$ $42 + 19 = 61$ $55 + 8 = 63$

時間と時刻(3) 名前

④ 時間の長いじゆんに、ならべましょう。

3時間 100分 1日 18時間

(1日, 18時間, 3時間, 100分)

② 右の時計の時刻は 10時25分です。

① 20分あとの時刻は、何時何分でしょうか。

10時45分



③ 11時までは、あと何分間あるでしょうか。

35分間

⑤ しょうたさんは、お父さんとキャッチボールをしました。はじめたのは午後4時10分で、おわったのは、午後4時40分でした。キャッチボールをしていたのは、何分間でしょうか。

しき

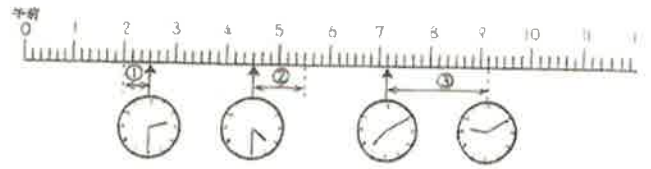
$$4時40分 - 4時10分 = 30分$$



答え 30分間

時間と時刻(4) 名前

④ つぎの時刻や時間を、図を見てもどめましょう。



① 午前2時30分から、30分前の時刻。

午前2時

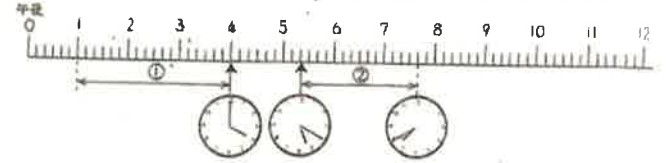
② 午前4時30分から、1時間後の時刻。

午前5時30分

③ 午前7時10分から、午前9時10分までの時間。

2時間

⑤ つぎの時刻や時間を、図を見てもどめましょう。



① 午後4時から、3時間前の時刻。

午後1時

② 午後5時20分から、午後7時40分までの時間。

2時間20分

ひき算(7)

くり下がりあり

$$\begin{array}{r} 62 \\ -33 \\ \hline 29 \end{array} \quad \begin{array}{r} 84 \\ -58 \\ \hline 26 \end{array} \quad \begin{array}{r} 78 \\ -49 \\ \hline 29 \end{array} \quad \begin{array}{r} 60 \\ -27 \\ \hline 33 \end{array}$$

$$\begin{array}{r} 96 \\ -67 \\ \hline 29 \end{array} \quad \begin{array}{r} 74 \\ -36 \\ \hline 38 \end{array} \quad \begin{array}{r} 80 \\ -9 \\ \hline 71 \end{array} \quad \begin{array}{r} 51 \\ -18 \\ \hline 33 \end{array}$$

$$\begin{array}{r} 44 \\ -35 \\ \hline 9 \end{array} \quad \begin{array}{r} 23 \\ -8 \\ \hline 15 \end{array} \quad \begin{array}{r} 92 \\ -48 \\ \hline 44 \end{array} \quad \begin{array}{r} 84 \\ -27 \\ \hline 57 \end{array}$$

82-45 = 37, 70-18 = 52, 44-26 = 18, 73-34 = 39, 91-37 = 54, 53-39 = 14

ひき算(8)

くり下がりあり

① 84-75, ② 72-59, ③ 51-7, ④ 63-38

9, 13, 44, 25


⑤ 30-0, ⑥ 67-19, ⑦ 70-27, ⑧ 55-39

24, 48, 43, 16

⑨ 93-54, ⑩ 60-42, ⑪ 83-57, ⑫ 91-63

39, 18, 26, 28

66-39 = 27, 41-5 = 36, 33-14 = 19, 92-68 = 24, 50-12 = 38, 74-56 = 18



みんながくらす場所は、
どんな様子なのかな。
調べてみよう。

まちには、何かあるのかな。
どんなまちがあるのかな。

① わたしたちのまち

0/0

1. わたしたちのまちと市

自分たちのくらすまちのようすを知ろう。

① まちにあるもの

- ・ 学校
- ・ スーパー
- ・ 消防しよ

めあては「マス
あけて書く。
四角下かきよう

教科書P4, P5を見て
見つけたしをたくさん書こう!

② 人のようす

- ・ 学校に子どもたちがいる
- ・ 田んぼで田うえをしている

考えてみよう!
・ どのほ所に人がいるのか
・ たくさん人が集まっているのはどこか

③ わたしたちのまちと同じところ

- ・ スーパーがある

④ ちがうところを見つけよう

- ・ 市役所がない

田んぼの手と田んぼの
ちがうところを見つけよう

<理科>

資料⑥

番組の
名前

「不思議エンドレス」

〇/〇

日付

①

新しく知ったこと
わかったこと
考えたこと

などを書こう。

〇/〇

「考えるカラス」

②

文章で表しても、図や表を使っても、
どちらでも大丈夫です。見やすくまとめる
ことは出来るでしょうか？

①②

マス分けて、線を引こう。

