

学校閉鎖期間中の学習について 4年生

1月24日(月)～26日(水)

☆4年生のみなさんへ

学校がお休みの間の課題です。課題をノートにやって写真を取り、ロイロで提出しましょう。(26日までに提出してください。)

提出先・・・「学級・学校閉鎖中の学習」という提出箱に提出してください。

課題

① 国語 教科書(下) P84～85 「熟語の意味」

教科書を読んで、熟語の意味を考えましょう。分からない熟語は調べましょう。

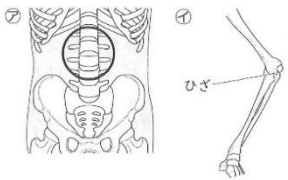
「ウナギのなぞを追って」「初雪のふる日」を読みましょう。

② 算数 教科書(下) P131～132 「ほじゅうのもんだい」

③ 理科 下の問題をやりましょう。答えはノートに書きましょう。

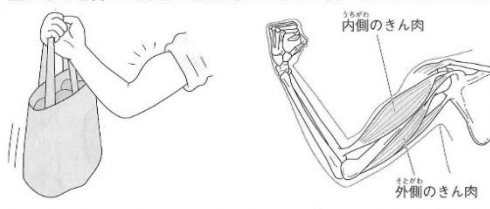
1 右の図の㉔、㉕は、ヒトの体の中のほねの一部を表しています。これについて、次の問いに答えましょう。 30点[(1),(2),(4),(5)各5点,(3)完答10点]

- (1)㉔の○は、体のどこのほねですか。()
- (2)㉔、㉕で見られるように、ほねとほねのつなぎ目の曲げられるところを何といいますか。
()
- (3)㉕は足のほねの一部です。曲げられる部分に●印をつけましょう。(図に記入)
- (4)うでをさわったとき、かたいほねの部分のほかにはやわらかい部分があります。この部分を何といいますか。()
- (5)ヒトが体を動かせるのはどのようなところですか。正しいものに○をつけましょう。
 - ①()ほねとほねのつなぎ目になっている部分。
 - ②()ほねがやわらかくなっている部分。
 - ③()きん肉のつなぎ目になっている部分。



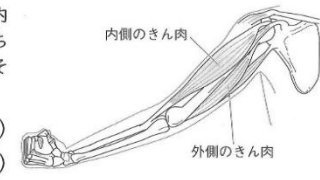
2 重いものを持ったときのきん肉のようすを調べました。あとの問いに答えましょう。 20点[各10点]

- (1)重いものを持ったとき、ちぢんでいるのは、内側のきん肉と外側のきん肉のどちらですか。()
- (2)力を入れると、きん肉はどうなりますか。
()



3 下の図は、ヒトのうでのほねときん肉をしめています。これについて、次の問いに答えましょう。 20点[各5点]

- (1)うでをのばしているときに、内側のきん肉と外側のきん肉はちぢみますか、ゆるみますか。それぞれ答えましょう。
内側のきん肉()
外側のきん肉()
- (2)うでを曲げるときに、内側のきん肉と外側のきん肉はちぢみますか、ゆるみますか。それぞれ答えましょう。
内側のきん肉() 外側のきん肉()



4 ヒトとウサギの体が動くしくみを調べます。次の問いに答えましょう。 30点[各5点]

- (1)ウサギには、ヒトと同じようにほねがあります。きん肉はありますか。
()
- (2)次の①～⑤で正しいものには○、まちがっているものには×をかきましょう。
 - ①()ウサギにはほねがあるが、ヒトとちがって関節はない。
 - ②()ウサギにはヒトと同じようにせなかのほねがある。
 - ③()ヒトやウサギはほねや関節、きん肉で体を動かしたりささえたりする。
 - ④()顔にはきん肉がない。
 - ⑤()ほねは体をささえている。



④ 社会 寄木細工について調べたことをノートまとめましょう。

☆ 各クラスで出されている課題があったら、そちらもやりましょう。規則正しい生活を送るようになりましょう。体調に気を付けて過ごしてください。