

1年生数学科課題一覧

①前回の課題の教科書P10の用語チェックテストをやってみよう！

（分からなかったら教科書を見ながら解いてみましょう！間違えた問題があったときは、解き直しをして満点を目指しましょう！）※丸付けをして提出！

②前回の課題の「トランプを使った数字ゲーム」を使った問題を解いてみよう！

トランプのカードの黒いカード（♠スペード、♣クローバー）を加点ポイント（+の点）とし、赤いカード（♦ダイヤ、♥ハート）を減点ポイント（-の点）としたときのトランプ合計点を求めてみましょう！難しかったら、実際のトランプをみながらやるといいかも？ プリントは白黒ですが、学校のホームページはカラーでみることができます。※丸を付けずにそのまま提出！

1年 組 番 名前

教科書 P10 用語チェックテスト

【正負の数】

問題 1.

空欄を埋めましょう。

(1) 気温は、() °C を基準にして、それより高い温度は + を、低い温度は () を使って表します。

(2) 符号の読み方

+ ()

- ()

(3) 新しい用語

() … +5, +8.3 のような 0 より大きい数

() … -3, -5.5 のような 0 より小さい数

() … 正の整数のこと

問題 2.

+, - の符号を使って、温度を表してみましょう。

(1) 0°C より 4°C 高い温度

(2) 0°C より 5°C 低い温度

問題 3.

わくの中の数を、負の整数、負の小数、負の分数に分けましょう。

-4.1	-8	$-\frac{1}{2}$
------	----	----------------

負の整数 ()


負の小数 ()

負の分数 ()

ワタシハナンテン？


前回の課題にトランプでできる数字のゲームを紹介しました。黒いカード（クローバー、スペード）は加点ポイント（+の点）、赤いカード（ダイヤ、ハート）は減点ポイント（-の点）としたとき、次の問題の合計ポイントは何点になるでしょうか？点数を書き込んでください。

(1)




点

(2)



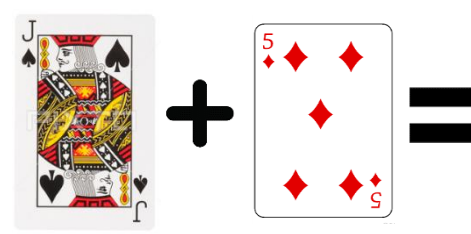
点

(3)



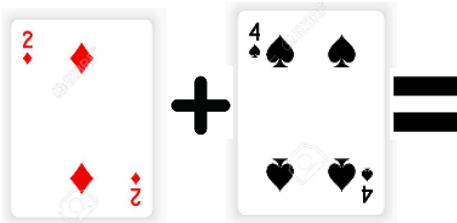
点

(4)




点

(5)



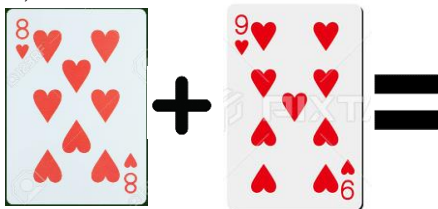
点

(6)




点

(7)




点

(8)




点

(9)




点

(10)




点

(1 1)




点

(1 2)




点

(1 3)




点

(1 4)




点

(1 5)




点

(1 6)



点


(1 7)



点

☆チャレンジ☆何秒で解けるかな!(^^)!

(1 8)



点