

月 日 () たしかめよう

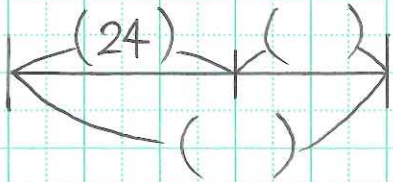
これまでの学習をふり返りながら
練習問題に取り組もう。

P 32


△ ①

②

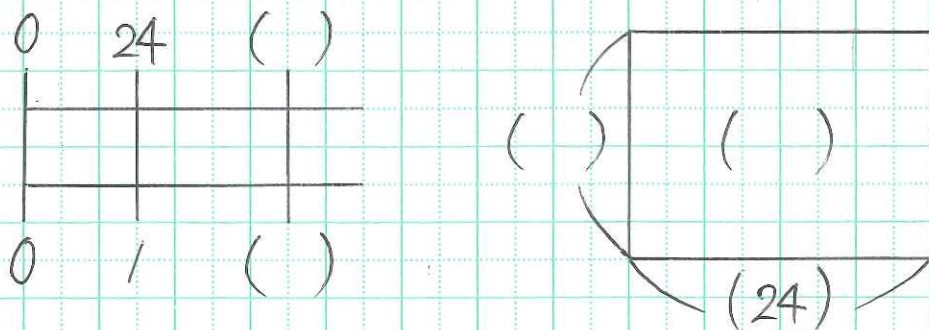
△ ① $24 + x = y \rightarrow$ _____



② $24 - x = y \rightarrow$ _____



③ $24 \times x = y \rightarrow$ _____



△ ①

②

P 258 おもしろもんだい

□ ① ア

イ

\rightarrow ア イ どちらも決ま _____

② ア

x	1			
y	5			

イ

x	1			
y	5			

\rightarrow 正し _____。

③ ア

イ

オ

\rightarrow ア イ オ いずれも決ま _____

④ ア

x	1	2	3	4
y				

イ

x	1	2	3	4
y				

オ

x	1	2	3	4
y				

\rightarrow 比例してい
るのは _____