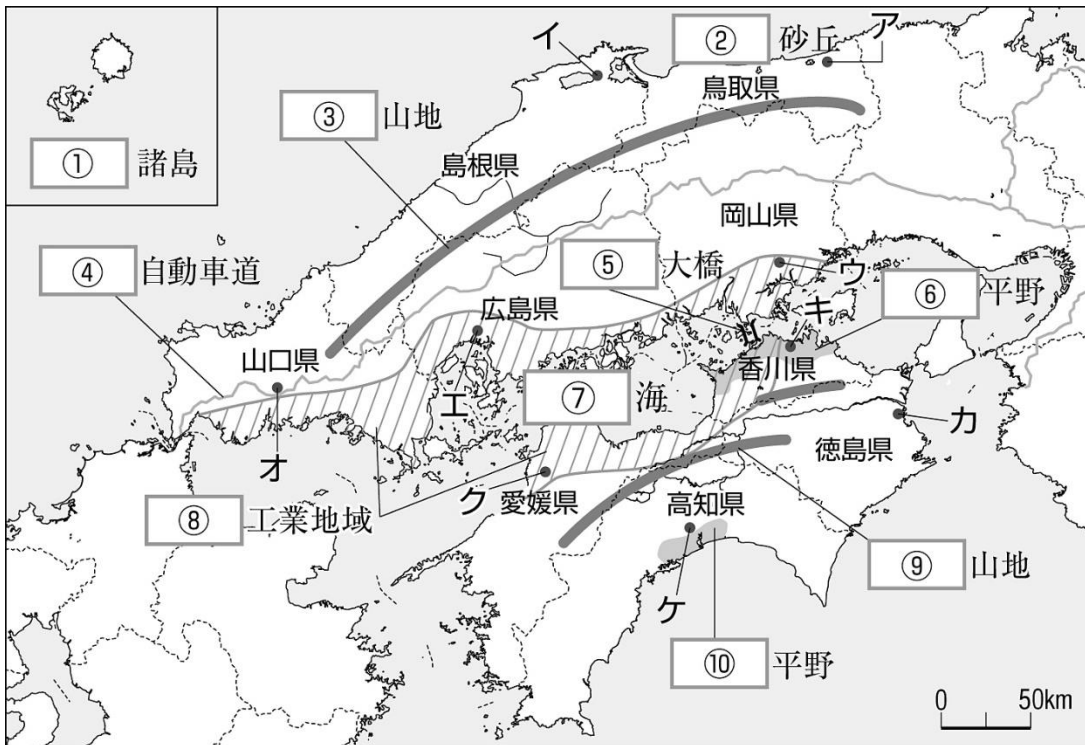


中国・四国地方の学習

年 組 番 名 前



ア
イ
ウ
エ
オ
カ
キ
ク
ケ

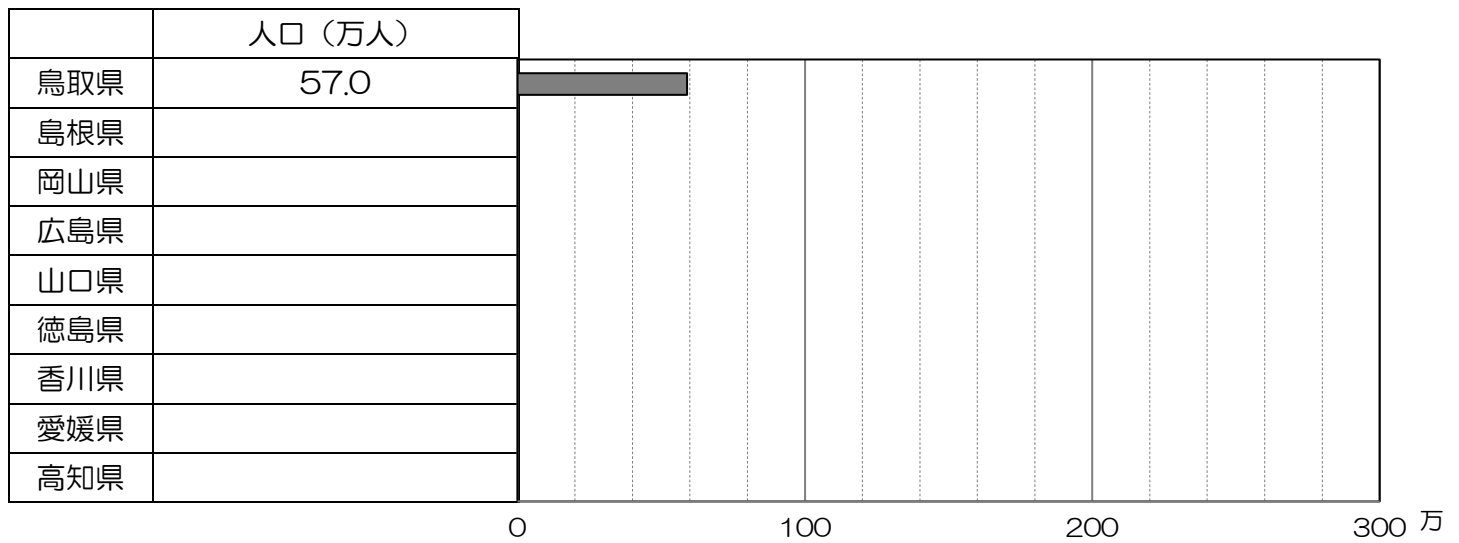
○中国・四国地方の地名を確認しよう

A 上の地図に・で示したア～ケの県庁所在地名を，右上の解答欄に答えましょう。

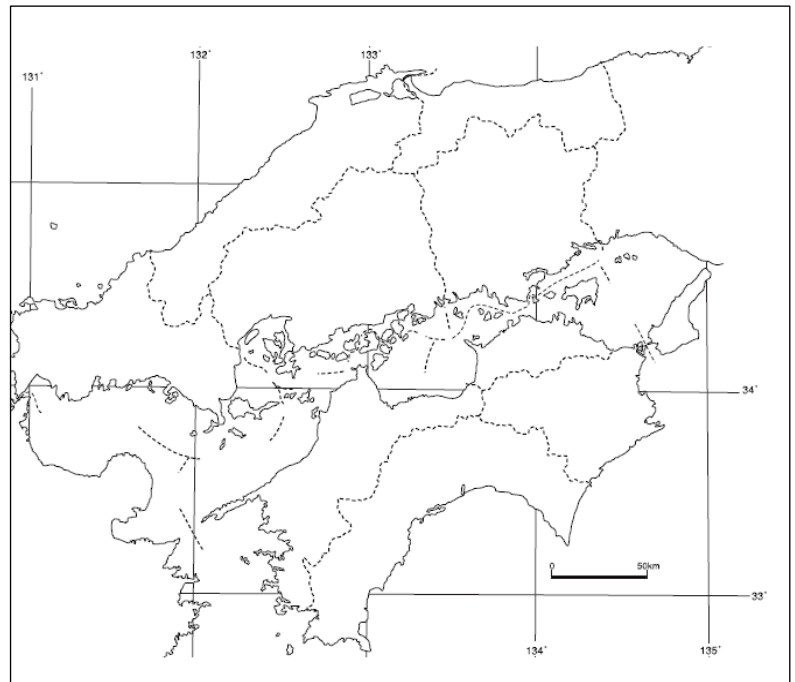
B 上の地図の①～⑩にあてはまる語句を，下の解答欄に答えましょう。

①	②	③	④	⑤
⑥	⑦	⑧	⑨	⑩

作業1 各県の人口をグラフにしよう。(地図帳 P163～164)



作業2 地図に人口が 100 万人以上 (◎)、50 万人以上 (○)、30 万人以上 (●) の都市を書き入れましょう。(地図帳 P162)



作業3 1980 年より人口が増加した県を赤色に、減少した県を青色に塗りましょう。(地図帳 P163～164)

	人口 (万人)
鳥取県	60.4
島根県	78.5
岡山県	187.1
広島県	273.9
山口県	158.7
徳島県	82.5
香川県	100.0
愛媛県	150.7
高知県	83.1

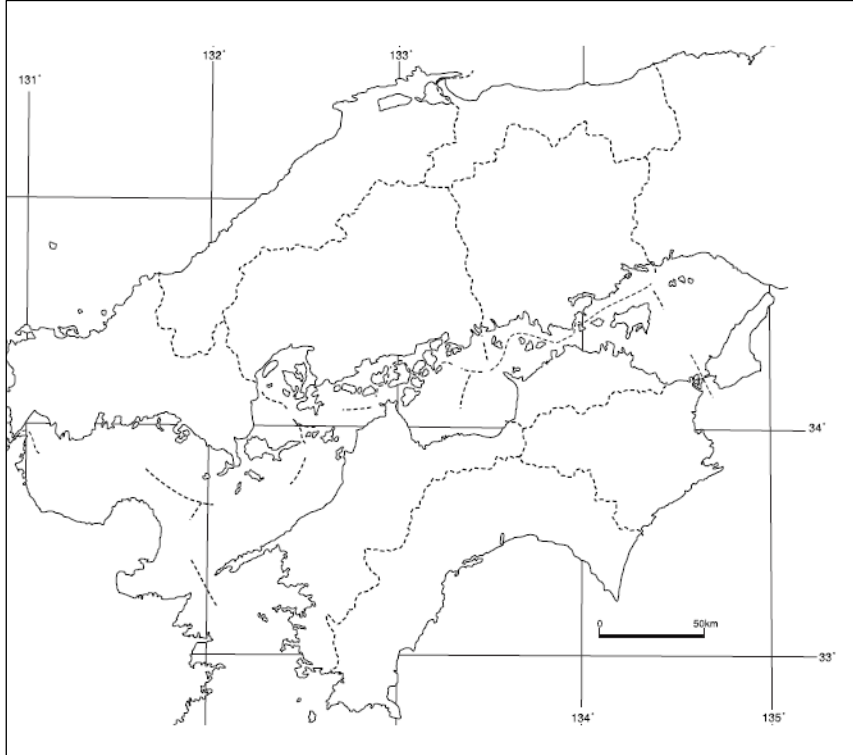
作業4 各県の 65 歳以上の人口の割合を調べよう。(地図帳 P163～164)

	65 歳以上の人口の割合 (%)
鳥取県	
島根県	
岡山県	
広島県	
山口県	
徳島県	
香川県	
愛媛県	
高知県	

思考1 中国・四国地方の人口について特徴をまとめましょう。

工業

作業5 中国・四国地方の工業を地図中に書きこもう。(地図帳 P.92 「④中国・四国地方の工業」)



知識 岡山県倉敷市にある「石油化学コンビナート」とは？

思考2 なぜ、瀬戸内地方に工業が集中しているのか考えよう。

農業

作業6 高知県の耕地面積と野菜の出荷額を調べよう。(地図帳 P.163~164)

【耕地面積】() km² … 第()位

【野菜の出荷額】() 億円 … 第()位

思考3

なぜ、高知県では耕地面積が少ないのに、野菜の出荷額が多いのだろうか？高知県の農業の工夫を教科書から読み取ろう。(教科書 P.190~191)